



DİN ÖĞRETİMİ
GENEL MÜDÜRLÜĞÜ



SİDDİK TİVNİKLİ İMAM HATİP ORTAOKULU

ÖRGÜN EĞİTİMLE BİRLİKTE
HAFIZLIK EĞİTİMİ ADAY ÖĞRENCİ
SEÇME VE SEVİYE BELİRLEME SINAVI

18 HAZİRAN 2019
Saat : 14.00

Soru Sayısı : 50
Sınav Süresi : 80 dakika

ÖĞRENCİLERİN DİKKATİNE

- Cevap kâğıdı üzerindeki kodlamaları kurşun kalemle yapınız.

• T.C :
• ADI SOYADI :
• OKULU :

A

TÜRKÇE DERSİ

1. Bu testte 15 soru vardır.
2. Cevaplarınızı, cevap kâğıdına işaretleyiniz.

1, 2 ve 3. soruları aşağıdaki metne göre cevaplayınız.

Yerebatan Sarnıcı

Yerebatan Sarnıcı, İstanbul'un en büyük kapalı sarnıcıdır. MS 542 yılında Bizans İmparatoru tarafından Büyük Saray'ın su ihtiyacını karşılamak için yaptırılmıştır. Yapımı otuz sekiz yıl süren bu sarnıç yaklaşık 100 bin ton su kapasiteye sahiptir. Her biri 9 metre yüksekliğinde 336 sütun bulunmaktadır. Belirli aralıklarla dikilen bu sütunlar, her sırada 28 tane olmak üzere 12 sıra meydana getirir. Sarnıcın sonlarında diğer sütunlardan farklı desenli bir sütun vardır. Bu sütun Gözyaşı Sütünü'dür. Sütunun üzerinde tavus gözü, sarkık dal ve gözyaşı şekilleri; oyma ve kabartma tekniği ile süslenmiştir.

Sarnıcın sonunda Roma heykel sanatının eşsiz şaheserlerinden olan Medusa Başları yer almaktadır. Ancak nerede yapıldığı bilinmemektedir. Sonradan bu sarnıcın içerisine taşınmıştır. Hakkında birden çok efsane olan Medusa'nın kendine bakanları taşa çevirme özelliği olduğundan bahsedilmektedir. İstanbul'un Osmanlıların eline geçmesiyle sarnıç bir müddet daha kullanı olarak Topkapı Sarayı'nın bahçelerine buradan su verilmiştir. Fakat durgun su yerine akan suyu tercih eden Osmanlılar, kendi su tesislerini kurduktan sonra bu sarnıcı kullanmamışlardır.

1. Yerebatan Sarnıcı ne zaman, kim tarafından yaptırılmıştır?

- A) 542 yılında Büyük Saray Kra liçesi tarafından
- B) 336 yılında Yunan İmparatoru tarafından
- C) 542 yılında Bizans İmparatoru tarafından
- D) 542 yılında Osmanlı Padişahı tarafından

2. Yerebatan Sarnıcı'nda farklı deseni olan sütunun adı aşağıda kilerden hangisidir?

- A) Hasret Sütunu
- B) Hüzün Sütunu
- C) Medusa Sütunu
- D) Gözyaşı Sütunu

3. "Osmanlılar sarnıçtaki suyu --- olduğu için kullanmamışlardır."
Metne göre bu cümledeki boş bırakılan yere aşağıdaki kelimelerden hangisi gelmelidir?

- A) akan su
- B) durgun su
- C) soğuk su
- D) kirli su

4. 1. Açılışa ikiyüz elli kişi gelmiş.
2. Bu mahalleye geleli XV gün olmuş.
3. Her gün evden 08.10'da çıkıyor.
4. İlk ders dokuzaon kala başlıyor.

Yukarıdaki cümlelerin hangisinde sayıların yazımıyla ilgili bir yanlışlık yapılmamıştır?

- A) 4
- B) 3
- C) 2
- D) 1

5. Kentin gürültüsünden kurtulup kırlara gitmeye karar verdik. Orman içinde gürül gürül akan bir derenin yanında durduk. Burada piknik yapmak güzel bir fikirdi. Tek sorun salıncağı yapa çağımız büyük ağacı bulmaktı.

Yukarıdaki metinde hikaye unsurlarından hangileri yer almaktadır?

- A) Yer - Olay
- B) Zaman - Kahramanlar
- C) Olay - Zaman
- D) Yer - Kahramanlar

6. Ben Mehmetçiğim kendimden eminim
Düşmana korkuyum, dosta güvenim
Vatani canımdan çok, çok severim
Vatan Mehmet, Mehmet vatan demektir

Bu şiirin ana duygusu aşağıdakilerin hangisinde doğru verilmiştir?

- A) Mehmetçiğin çektiği zorluklar
B) Mehmetçiğin vatan sevgisi
C) Vatana duyulan özlem
D) Mehmetçiğin yaşadığı korkular
7. **1** Adapte **a** Tam gün
2 Dublaj **b** Engel
3 Full time **c** Uyum
4 Bariyer **d** Seslendirme

Yukarıda verilen yabancı dillerden alınmış dilimize henüz yerleşmemiş kelimeler ile Türkçe karşılıklarının doğru eşleştirilmesi hangi seçenekte verilmiştir?

- A) 1 - a B) 1 - c
2 - c 2 - b
3 - b 3 - a
4 - d 4 - d
- C) 1 - c D) 1 - c
2 - d 2 - d
3 - b 3 - a
4 - a 4 - b
8. **Aşağıdaki cümlelerin hangisinde ayrı yazılması gereken "de" bitişik yazılmıştır?**

- A) Ormanda ateş yakmayınız.
B) Teyzem de, dayım da bu gece bizde kalacaklar.
C) Halamda bizde kaldı.
D) Sendeki şans keşke bende olsa.

9.



Fulya

Çıkarıcı kimseler, amaçlarına ulaşmak için ortalığın karıştığı, insanların birbirine düştüğü zamanı ve ortamı seçerler.

Fulya'nın açıklamasına uygun atasözü aşağıdakilerden hangisidir?

- A) Kurt dumanlı havayı sever.
B) Köpeksiz sürüye kurt girer.
C) Dost başa, düşman ayağa bakar.
D) Düşman eteğin altından çıkar.

10. 1. Kedi, köpek kadar hızlı koşamaz.
2. Onunla yeni tanıştığınan fazla samimi olmuyor.
3. Çocuklar için vitamini bol olan meyvelerden bazıları portakal, mandalina, elma ve nardır.

Yukarıda verilen cümlelerin anlam özellikleri hangi seçenekte doğru olarak verilmiştir?

- 1 2 3
A) Benzetme Neden - sonuç Örneklendirme
B) Neden - sonuç Karşılaştırma Benzetme
C) Karşılaştırma Neden - sonuç Örneklendirme
D) Karşılaştırma Neden - sonuç Benzetme

11. **Aşağıdaki seçenkelerin hangisinde kısaltmalara gelen eklerin yazımı doğru verilmiştir?**

- A) Ablam bu sene İTÜ'sini kazandı.
B) TEDAŞ'dan gelen yetkililer tam bir açıklama yapamadılar.
C) Yaşlı adam 10 kg'tan fazla yük taşıyamıyor.
D) TDK'den yeni yazım kuralları açıklandı.

12. Pınarın verdiği fikir yüzünden resim yarışmasını kazandım.

Yukarıdaki ifadede yapılan anlatım bozukluğu hangisi yapılırsa giderilmiş olur?

- A) "Kazandım" sözcüğü yerine "kazandık" yazılmalıdır.
 B) "Yüzünden" sözcüğü cümleden çıkarılmalıdır.
 C) "Yüzünden" sözcüğü yerine "sayesinde" yazılmalıdır.
 D) "Kazandım" sözcüğü yerine "kazandılar" yazılmalıdır.

14. Tavşanın biri beni kimse geçemez diye övünüyor. Kaplumbağa bir gün dayanamayıp kendine o kadar güvenme ben senden daha hızlı koşarım demiş. Tavşan gülmüş kaplumbağanın sözlerine. Ertesi gün yarışmışlar. Tavşan biraz koşunca yatmış uyumuş. Uyandığında kaplumbağa yarışı bitirmek üzereymiş.

Bu metne göre aşağıdaki ifadelerden hangisi söylenemez?

- A) Tavşan kendini beğenen biridir.
 B) Kaplumbağa azimli ve istikrarlıdır.
 C) Tavşan ve kaplumbağanın ortak özellikleri kendilerine güvenme leridir.
 D) Kaplumbağa kendini başkaların dan üstün görür.

13. I. Yarınki sıvan için çok heyecanlıyım.
 II. O kadar üşüdüm ki ellerim buz kesti.
 III. Arkadaşımın başka okula gitmesine üzüldüm.
 IV. Kedime sarılınca mutlu oluyorum.
- Yukarıdaki cümlelerin çeşidi hangi seçenekte doğru verilmiştir?**

Duygusal ifade	Abartılı ifade
A) I ve II	II ve IV
B) I, III ve IV	II
C) I, II ve IV	III
D) I	II, III ve IV

15. Kuşlar çatıdan uçtu.
 Haksızmışsın söylediklerinde.
 Devrildi koca sandalye.
 Kedim, yedi mamasını çabucak.

Yukarıdaki cümlelerden kurallı olanların başına "K", devrik olanların başına "D" yazılırsa nasıl bir görüntü olur?

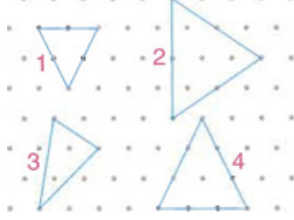
- A) K
 D
 D
 K
- B) K
 D
 K
 D
- C) D
 D
 K
 K
- D) K
 D
 D
 D

**TÜRKÇE TESTİ BİTTİ.
 MATEMATİK TESTİNE GEÇİNİZ.**

MATEMATİK DERSİ

1. Bu testte 15 soru vardır.
2. Cevaplarınızı, cevap kâğıdına işaretleyiniz.

1.



Yukarıda verilen üçgenler kenar özelliklerine göre sınıflandırıldığında hangi üçgen diğerlerinden farklı sınıflandırılabilir ?

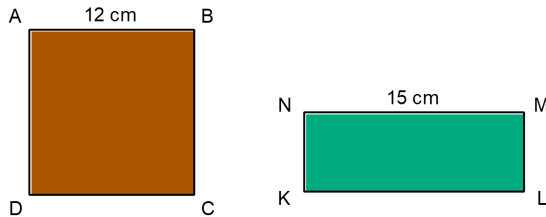
- A) 1 B) 2 C) 3 D) 4

2. • Futbol sahası
• Dolabın yüzeyi
• Kurşun kalem
• Gökyüzü
• Tangram parçaları
• Yol

Yukarıdakilerden kaç tanesi düzleme örnektir?

- A) 5 B) 4 C) 3 D) 2

3.



ABCD karesi ile KLMN dikdörtgeninin çevre uzunlukları birbirine eşittir.

Buna göre dikdörtgenin kısa kenar uzunluğu kaç santimetredir?

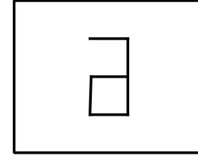
- A) 9 B) 10 C) 11 D) 18

4. Ali, misketlerini üç arkadaşına pay laştırmak istemektedir. Kemal, Ce mil'den 15 tane fazla, Hasan'dan da 23 tane eksik almıştır.

Kemal 48 tane misket aldığına göre Ali'nin kaç tane misketi vardır?

- A) 152 B) 157 C) 165 D) 169

5.



Yukarıdaki şeklin aynada yansıması hangi seçenekte doğru verilmiştir?

- A)
- C)

6.

$$\begin{aligned} 5+a &= 12 \\ a+b &= 10 \\ b+c &= 7 \end{aligned}$$

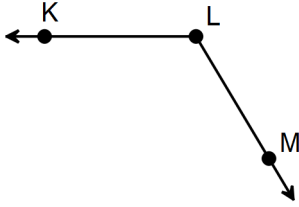
Yukarıda verilen eşitliklere göre $a+b+c$ işleminin sonucu kaçtır?

- A) 15 B) 14 C) 12 D) 7

7. Babam, 2 tişört 3 gömlek için 384 lira ödemiştir. **Bir tişört 45 lira olduğuna göre bir gömlek kaç liradır?**

A) 98 B) 95 C) 90 D) 87

8.



Yukarıda verilen açı;

1. \widehat{K} 4. \widehat{KLM}
2. \widehat{L} 5. \widehat{MLK}
3. \widehat{M} 6. \widehat{KML}

sembollerinden hangileri ile gösterilebilir?

A) 1,4 ve 5 B) 2,3 ve 6 C) 2,4 ve 5 D) 3,4 ve 6

9.

Bir tencere sütün $\frac{5}{8}$ 'i ile yoğurt, $\frac{3}{18}$ 'i ile sütlaç yapılmıştır.

Buna göre tencerede sütün kaçta kaç kalmıştır?

A) $\frac{7}{18}$ B) $\frac{8}{18}$ C) $\frac{9}{18}$ D) $\frac{10}{18}$

10.

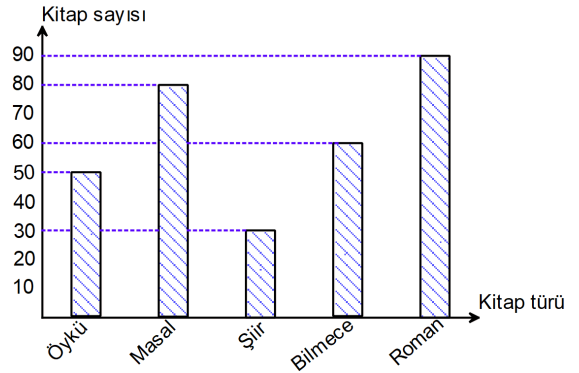


Ahmet Bey eşine etiket fiyatları yukarıda verilen ayakkabı ve çizmeyi alarak bir miktar peşin ödeme yapmıştır.

Kalan borcunu 129 liralık 3 taksitle ödeyeceğine göre kaç lirasını peşin ödemiştir?

A) 149 B) 145 C) 142 D) 138

11.



Yukarıdaki grafik Atatürk İlkokulu kütüphanesinde bulunan kitapları ve sayılarını göstermektedir.

Buna göre aşağıdakilerden hangisi yanlıştır?

- A) Öykü ve şiir kitaplarının toplamı masal kitaplarının sayısına eşittir.
B) 30 tane daha bilmecce kitabı olsaydı bilmecce kitaplarının sayısı roman kitaplarının sayısına eşit olurdu.
C) Kütüphanede en çok masal kitabı, en az şiir kitabı bulunmaktadır.
D) Öykü kitaplarının sayısı; bilmecce kitap sayısından az, şiir kitaplarının sayısından fazladır.

12.



Geniş Aç



Doğru Aç



Dik Aç



Dar Aç

Yukarıdaki saatlerde akrep ve yelkovanın arasındaki açı çeşitlerini altlarına yazan Alp hata yapmıştır.

Bu hatanın giderilebilmesi için hangi açı cisimlerinin yer değiştirmesi gerekir?

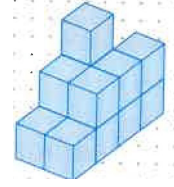
- A) Geniş açı - Doğru açı
- B) Dar açı - Dik açı
- C) Geniş açı - Dik açı
- D) Geniş açı - Dar açı

13. Bir kuruyemiş toptancısı 759 kilogram çekirdeği 36 kilogram alabilen çuval lara doldurarak satmak istiyor.

Buna göre, toptancının tahmini olarak kaç tane çuvala ihtiyacı vardır?

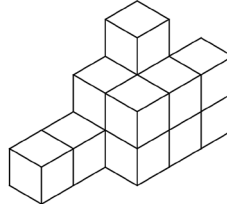
- A) 17
- B) 19
- C) 21
- D) 24

14.

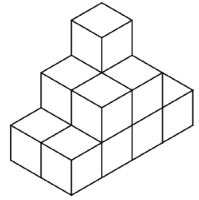


Yukarıdaki izometrik kağıt üzerindeki yapının birimküplerle oluşturulmuş hali aşağıdakilerden hangisidir?

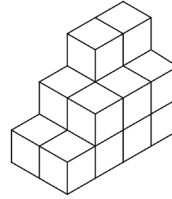
A)



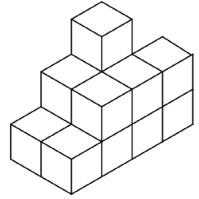
B)



C)



D)



15. Saat 11.15'te başlayan sinema filmi 136 dakika sürdüğüne göre film saat kaçta bitmiştir?

- A) 13.31
- B) 13.40
- C) 14.35
- D) 14.41

FEN BİLİMLERİ DERSİ

1. Bu testte 10 soru vardır.
2. Cevaplarınızı, cevap kâğıdına işaretleyiniz.

1. Besinlerle ilgili aşağıda verilen bilgilerden hangisi doğrudur?

- A) Yağlardan enerji elde edilmez.
- B) Yağlar yeterince alınmadığında vücudun direnci azalır ve hasta lanırız.
- C) Uzun süre aç kalındığında enerji ihtiyacı proteinlerden sağlanır.
- D) Vücudun enerji ihtiyacı karbon hidratlardan sağlanır.

2. Anıl : Vücudun mikroplara karşı direncini artırır.


Sevil : Tükettiğimiz tüm yiyecek ve içeceklerde bulunur.

Faruk : Besinlerin dışında topraklarda, kayalarda ve denizlerde bulunur.

Yukarıdaki öğrencilerden hangileri minerallerle ilgili doğru bilgi vermiştir?

- A) Yalnız Sevil
- B) Anıl ve Sevil
- C) Faruk ve Sevil
- D) Anıl, Sevil ve Faruk


3.



Yukarıda tekerlekli çubuk mıknatıslar verilmiştir. Mıknatıslar özdeş ve aralarındaki mesafe eşittir. **Bu iki durumda A mıknatısının hareketi ile ilgili aşağıdakilerden hangisi söylenebilir?**

- | 1 | 2 |
|----------------------------|------------------------|
| A) Hareketsiz kalır. | → yönünde hareket eder |
| B) → yönünde hareket eder. | Hareketsiz kalır |
| C) ← yönünde hareket eder | ← yönünde hareket eder |
| D) → yönünde hareket eder | ← yönünde hareket eder |

4.



Yukarıdaki dereceli silindirin içine eşit hacimli dört tane bilye atıldığında beherden 100 mililitre su taşıdığı gözleniyor.

Buna göre bir tane bilyenin hacmi kaç mililitredir?

- A) 100
- B) 85
- C) 70
- D) 65

SİDDİK TUNIKLI İMAM HATİP ORTAOKULU

5. Ceylin : Çalışma alanları sensörlü ampullerle aydınlatılmalı.

Gökтуğ : Sokak lambaları gökyüzüne doğru yönlendirilmemeli.

Miray : Reklam ve ilan panolarında fazla ışıklandırma yapılmamalı.

Öğretmenlerinin sorusuna öğrenciler yukarıdaki cevapları vermişlerdir.

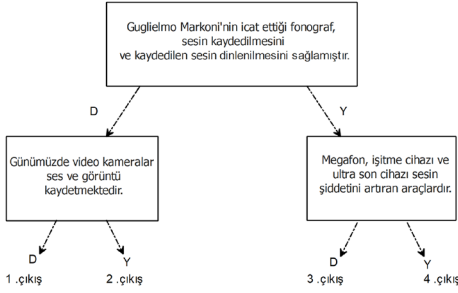
Buna göre öğretmen aşağıdaki sorulardan hangisini sormuştur?

- A) Işık kirliliğinin sonuçları nelerdir?
- B) Işık kirliliğinin olumsuz etkileri nelerdir?
- C) Işık kirliliğini azaltmak için neler yapılmalıdır?
- D) Işığı tasarruflu kullanmak için neler yapılmalıdır?

6. • Megafon sayesinde kalabalık gruplara sesin iletilmesi
• Kulaklıkla yüksek sesli müzik dinlenilmesi
• Arabaların uyarı amaçlı korna çalması
• Alarm cihazları sayesinde hırsızlıkların önlenmesi
• Ambulansın siren sesi ile trafiğin açılması
Yukarıdakilerden kaç tanesi sesin şiddetini yükselten araçların insanlara olumlu etkilerindedir?

- A) 5
B) 4
C) 3
D) 2

7.



Yukarıdaki bilgilerin doğru ise "D", yanlış ise "Y" olduğu belirtilerek iletildiğinde kaç numaralı çıkışa ulaşılır?

- A) 1. çıkış
B) 2. çıkış
C) 3. çıkış
D) 4. çıkış

8. ▲ Bazı bitkilerin çoğalmasını engeller.
● Göçmen kuşların yönlerini bulma sını zorlaştırır.
■ Gök cisimleri daha iyi gözlenebilir.
◆ Deniz kaplumbağası yavrularının yönlerini kaybetmesine neden olur.

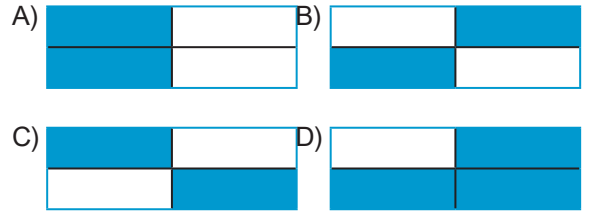
Yukarıdakilerden hangileri ışık kirliliğinin sebeplerindedir?

- A) ▲ ve ●
B) ▲, ● ve ■
C) ●, ■ ve ◆
D) ▲, ● ve ◆

9.

Fazla ya da az ışık görmemizi zorlaştırır.	Eğer sol elimizle yazı yazıyorsak ışık sol üst tarafımızdan gelmeli.
Lambadan çıkan ışık doğrudan gözümüze gelmelidir.	Aydınlatma aracı, kullanılacağı alanın büyüklüğüne göre seçilmelidir.

Yukarıdaki kartta yer alan ifadelerden yanlış olanların üzeri boyanırsa kartın görünümü nasıl olur?



10.

	D	Y
Led lambalar, floresandan daha uzun ömürlüdür.	S	M
Ampuller, floresan lambalardan daha az enerji harcar.	A	E
Geçmişteki aydınlatma araçları daha çok parlak ışık yayardı.	Y	R
Günümüzdeki aydınlatma araçları daha dayanıklı ve kullanışlıdır.	T	A

Yukarıdaki ifadeler doğru ise "D", yanlış ise "Y" kutucuğu boyanacaktır.

Boyama bittikten sonra yukarıdan aşağı hangi şifre oluşur?

- A) SERT
B) MERT
C) MART
D) SERA

SOSYAL BİLGİLER DERSİ

1. Bu testte 10 soru vardır.
2. Cevaplarınızı, cevap kâğıdına işaretleyiniz.

1. Ağaç gövdelerinin ve taşların yosunlu kısmı
2. Öğle vaktinde çubuğun kısa olan gölgesinin yönü
3. Karınca yuvalarının açık olan ağız kısmı
4. Pusulanın renkli ucu
Yukarıdaki yön bulma yöntemlerinden hangisi diğerlerinden farklı bir yönü bulmamızı sağlar?

A) 1 B) 2 C) 3 D) 4

1. Aldığı ürünün üzerinde TSE damgası olup olmadığını kontrol eder.
2. Alışveriş yaparken pahalı ürün satan marketleri tercih eder.
3. Alışverişten sonra verilen para üstüne ve fişe bakmaz.
4. Satın aldığı ürünün ambalajının sağlam olmasına dikkat eder.

Yukarıdakilerden hangileri bilinçli bir tüketicinin davranışlarıdır?

A) 1 ve 3 B) 1 ve 4
C) 2 ve 3 D) 2 ve 4

3. Aşağıda verilenlerden hangisi deprem olmadan önce alınması gereken önlemlerden biri değildir?

A) Binalar deprem yönetmeliğine uygun yapılmalıdır.
B) Sağlam bir masa veya mobilya yanında çömelerek baş korunmalıdır.
C) Şehirler fay hatları üzerine kurulmamalıdır.
D) Evdeki vitrin, dolap gibi ağır mobilyalar duvara sabitlenmelidir.

4.



Milli Mücadele, harita üzerinde hangi sembole gösterilen ilimizden başlamıştır?

A) ▲ B) ■ C) ◆ D) ●

5. Aşağıdaki ifadelerden hangisi yanlıştır?

A) Ailenin geçimini sağlamak için kazanılan paraya gelir denir.
B) Aile bütçemizi hazırlarken gelir ve giderlerin denk olmasına dikkat etmeliyiz.
C) İhtiyaçlarımızı gidermek için yapılan harcamalara para denir.
D) Gelirimizin bir kısmını beklenmedik giderler için ayırmalıyız

6. D Bilgisayar başında uzun süre kalmak aile içi bağları zayıflatır.

Y Teknolojinin çevreye herhangi bir zararı yoktur.

Y Teknolojik ürünler kullanım kılavuzuna uygun olarak kullanılmalıdır.

D Fazla televizyon izlemek, hayal gücünün artmasına neden olur.





Duygu, doğru yanlış testine yukarıdaki cevapları vermiştir.


Duygu her doğru cevabı için 10 puan alacağına göre kaç puan almıştır?

A) 10 B) 20 C) 30 D) 40

7. En çok beğendiğimiz ürün en önemli ihtiyaçtır.	İhtiyaçlarımızı karşılamazsak sağlığımız tehlikeye girer.
Bütçe hazırlanırken temel ihtiyaçlara öncelik verilmelidir.	Temel ihtiyaçlar kişiden kişiye değişir.

Bu tabloda yer alan ifadelerden yanlış olanlar kesilip çıkarılırsa tablonun son hali aşağıdakilerden hangisi olur?

- A)  B) 
- C)  D) 

8.  Üretim, belirli faaliyet ve işlemler sonucu yeni bir mal veya hizmet meydana getirilmesidir.

Meriç'in ifadesine göre aşağıdaki lerden hangisinde üretimden söz edilemez?

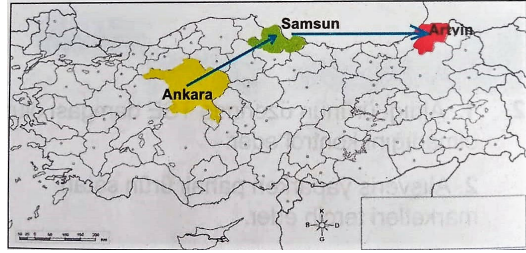
- A) Domatesten salça yapılmasında
B) Pamuktan iplik ve kumaş yapılmasında
C) Şeker pancarının fabrikada şeker haline getirilmesinde
D) Organik üzümünden yapılan pekmezin pazardan alınmasında

9. **Sıla:** Sifonu gereksiz yere çekemem.
Engin: Budolabının kapağının açık kalmamasına dikkat ederim.
Buse: Annem, etiketlerde yazan yıkama ve kullanma talimatlarına dikkat eder.

Öğrencilerin ifadelerinde aşağıdakilerden hangisine yönelik bir tasarruftan söz edilemez?

- A) Zaman B) Su
C) Elektrik D) Giysi

- 10.



Ankara'dan hareket eden bir araç önce Samsun'a sonra Artvin'e gidiyor.

Aracın sırasıyla gittiği yönler hangi seçenekte verilmiştir?

- A) Kuzey - Güneydoğu
B) Kuzeydoğu - Doğu
C) Doğu - Kuzeydoğu
D) Kuzeydoğu - Güneydoğu

SINAV BAŞLAMADAN AŞAĞIDAKİ UYARILARI MUTLAKA OKUYUNUZ!

1. Öğrenciler, sınav kurallarına ve salon görevlilerinin tüm uyarılarına uymak zorundadırlar.
2. Sınav başladıktan sonra öğrencilerin salon görevlileri ve birbirleri ile konuşmaları, kalem, silgi vb. şeyleri istemeleri yasaktır.
3. Değiştirmek istediğiniz bir cevabı, yumuşak silgiyle cevap kâğıdını yıpratmadan temizce siliniz ve yeni cevabınızı kodlayınız.
4. Cevaplarınızı, cevap kâğıdındaki ilgili soru numarasını dikkate alarak yuvarlağın dışına taşırmadan kodlayınız.
5. Soru kitapçığının sayfalarını kontrol ediniz, baskı hatası var ise değiştirilmesini sağlayınız.
6. Soru kitapçığı üzerinde yapıp cevap kâğıdına işaretlenmeyen cevaplar değerlendirmeye alınmayacaktır.
7. Soru kitapçığının içindeki boş alanları çözümlerinizi için kullanabilirsiniz.
8. Cevaplamaya istediğiniz sorudan başlayabilirsiniz.
9. Cevabını bilmediğiniz sorular üzerinde fazla zaman kaybetmeden diğer sorulara geçiniz. Zamanınız kalırsa bu sorulara daha sonra dönebilirsiniz.
10. Sınav puanınızın hesaplanmasında sadece doğru cevaplarınız dikkate alınacaktır.
11. Sınav bitiminde, cevap kâğıdını salon görevlilerine teslim ediniz.
12. Sınav sırasında sözlük, hesap makinesi, saat fonksiyonu dışında özellikleri bulunan saat veya çağrı cihazı, cep telefonu, telsiz, radyo ve bilgisayar özelliği bulunan elektronik cihazları yanınızda bulundurmayınız.
13. Cevap kâğıdınızı sınav süresince hiçbir öğrencinin göremeyeceği şekilde önünüzde bulundurunuz.
14. Sınav süresince zorunlu haller hariç sınav salonu dışına çıkılmayacaktır.

SINAV GÖREVLİLERİNCE SINAV BAŞLAMADAN ÖNCE ÖĞRENCİLERE YAPILACAK SON UYARI

- Soracağınız bir şey var mı? Varsa, şimdi sorunuz.
- Sınav başladıktan sonra sorularınıza cevap verilmeyecektir.
- Başlama zilini bekleyiniz.

Hepinize başarılar dileriz.

SİDDİK TİVNİKLİ HAFİZ (PROJE) İMAM HATİP ORTAOKULU
2019 YILI ÇIKMIŞ SORULAR

CEVAP ANAHTARI (A KİTAPÇIĞI)

TÜRKÇE

- 1 C
- 2 D
- 3 B
- 4 B
- 5 A
- 6 B
- 7 D
- 8 C
- 9 A
- 10 C
- 11 D
- 12 C
- 13 B
- 14 D
- 15 A

MATEMATİK

- 1 C
- 2 A
- 3 A
- 4 A
- 5 C
- 6 B
- 7 A
- 8 C
- 9 B
- 10 B
- 11 C
- 12 D
- 13 C
- 14 D
- 15 A

FEN BİLİMLERİ

- 1 D
- 2 C
- 3 D
- 4 A
- 5 C
- 6 B
- 7 A
- 8 D
- 9 B
- 10 A

SOSYAL BİLGİLER

- 1 C
- 2 B
- 3 B
- 4 B
- 5 C
- 6 B
- 7 A
- 8 D
- 9 A
- 10 B